

中学受験

(演習用)

実戦的解法による

分野別算数 1000

ファイル No. 403

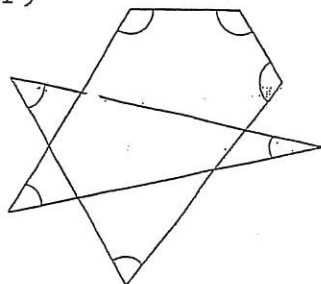
31-H 角度

中受ゼミ G

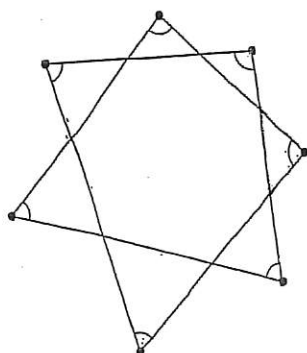
1

右の図で、印をつけた角の大きさの和を求めなさい。

(1)



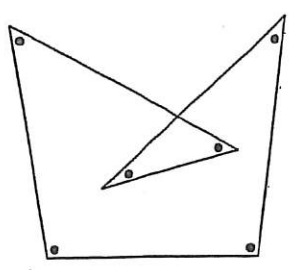
(2)



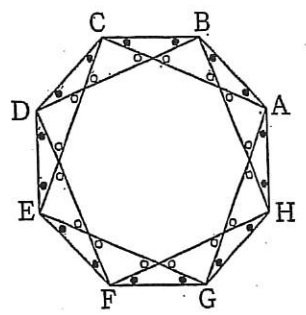
2

印のついた角の大きさの和を求めなさい。(2)では、○と●すべての和を求めます。

(1)



(2)

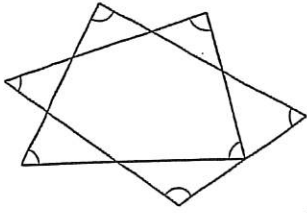


正八角形 ABCDEFGH

3

印のついた角度の和を求めなさい。

(1)



(2)

