

中学受験

(演習用)

実戦的解法による

分野別算数 1000

ファイル No. 425

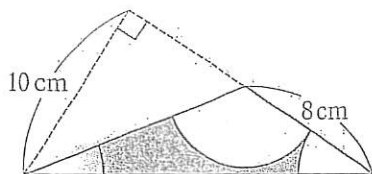
32-D 面積(1)

中受ゼミ G

1

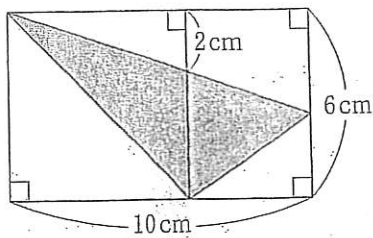
あみめ
網目部分の面積は何 cm^2 ですか。 円周率は 3.14 とします。

(1)

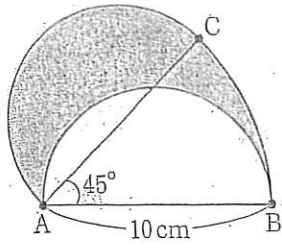


おうぎ形の半径は等しい。

(2)



(3)



半円をAのまわりに
45°回した。

(4)

