

中学受験

(演習用)

実戦的解法による

分野別算数 1000

ファイル No. 428

32-G 面積(1)

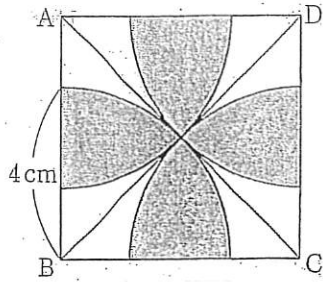
中受ゼミ G

1

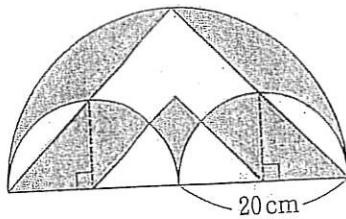
網目部分の面積を求めなさい。円周率は3.14とします。

(1)

AC=8cm  
の正方形  
ABCDと  
おうぎ形

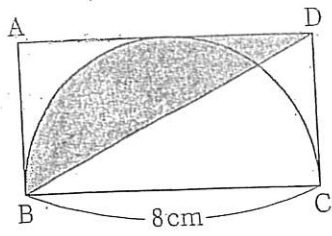


(2)



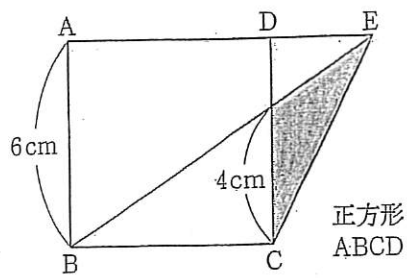
半円と直角二等辺三角形

(3)

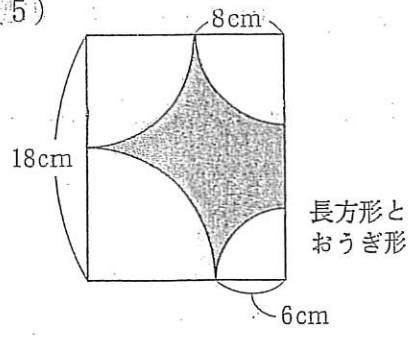


長方形と半円

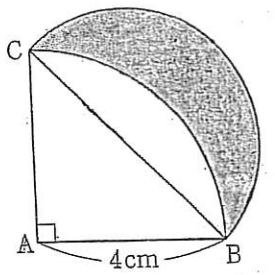
(4)



(5)



(6)



直角二等辺三角形 ABC  
と半円, おうぎ形