

中学受験

(演習用)

実戦的解法による

分野別算数 1000

ファイル No. 465

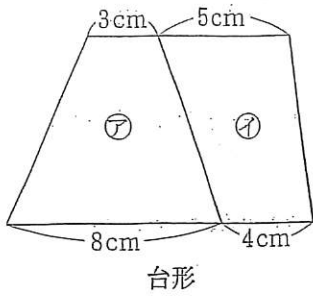
35-A 比と面積(1)

中受ゼミ G

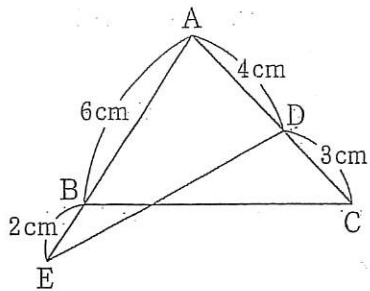
1

次の図形の面積の比を求めなさい。

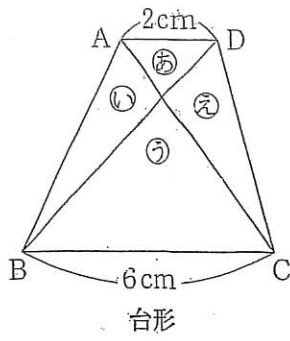
(1) ㊦ : ㊧



(2) 三角形 ABC : AED



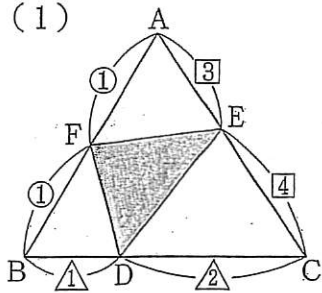
(3) あ : い : う : え



2

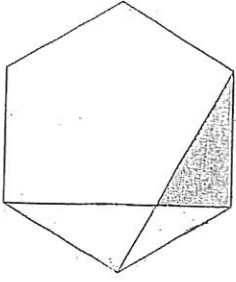
あみめ 網目部分の面積を求めなさい。

(1)



三角形 ABC の面積は 84 cm^2

(2)



正六角形の面積は 93.42 cm^2

(3)

