

中学受験

(演習用)

実戦的解法による

分野別算数 1000

ファイル No. 656

46-C 立体を

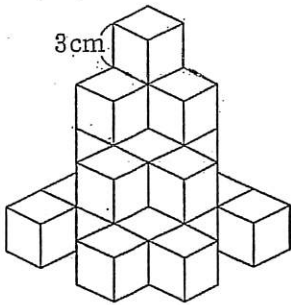
スライスする

中受ゼミ G

1

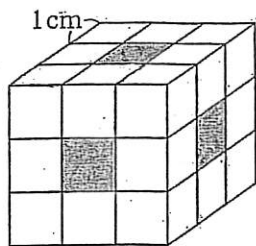
次の立体の表面積を求めなさい。

(1)



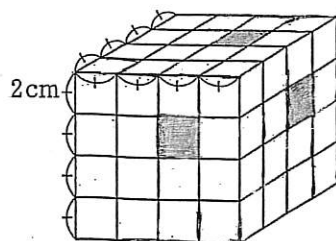
立方体を積み上げた立体。
見えない面はすべて平面。

(2)



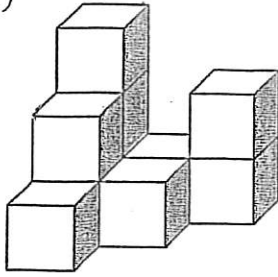
立方体を27個組み合わせた立方体から、かげをつけた部分を反対側の面までまっすぐにくりぬいた立体。

(3)



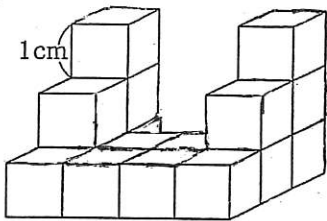
立方体から網目部分を反対側までくりぬいた

(4)



1辺3cm
の立方体
を積み上
げた。

(5)



同じ大きさの立方体
16個でできた立体。