

中学受験

(演習用)

実戦的解法による

分野別算数 1000

ファイル No. 415

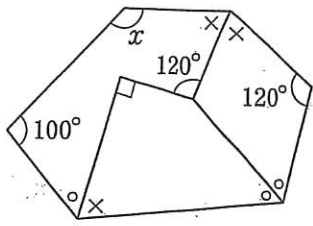
31-T 角度

中受ゼミ G

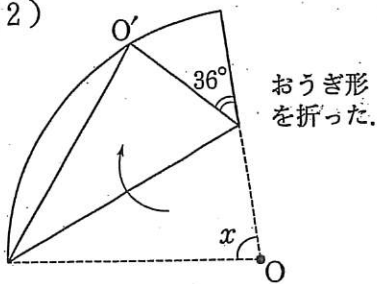
1

次の角  $x$  や  $y$  の大きさを求めなさい。図で、同じ印の角は同じ大きさです。

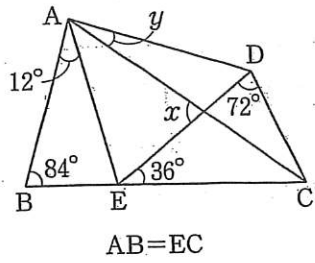
(1)



(2)

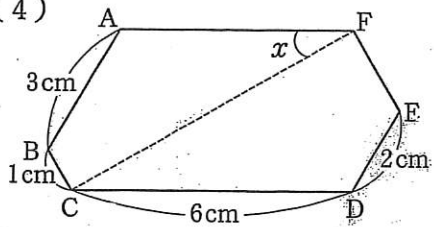


(3)



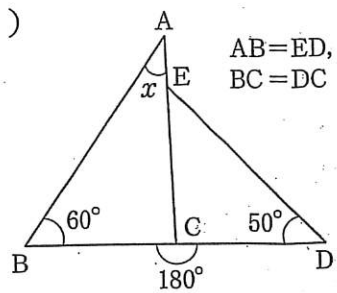
$AB=EC$

(4)



六角形  $ABCDEF$  の角はすべて  $120^\circ$

(5)



(6)

