

中学受験

(演習用)

実戦的解法による

分野別算数 1000

ファイル No. 399

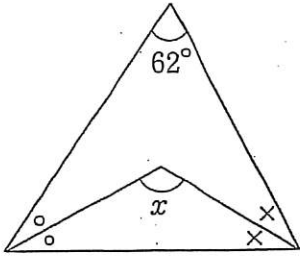
31-D 角度

中受ゼミ G

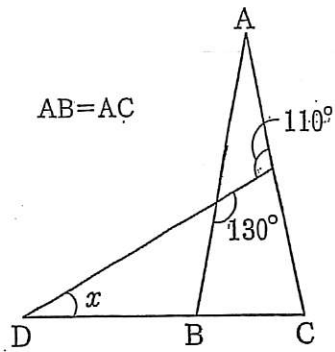
1

(8)までは、 x の角度を求めなさい。(9)では、 x, y の角度の和を求めなさい。

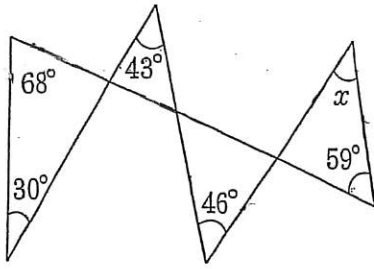
(1)



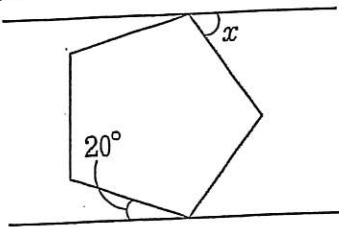
(2)



(3)

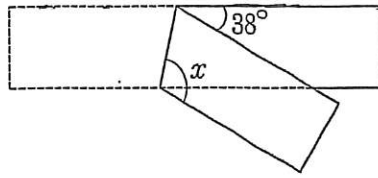


(4)



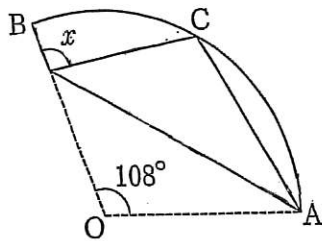
平行な2直線と正五角形.

(5)



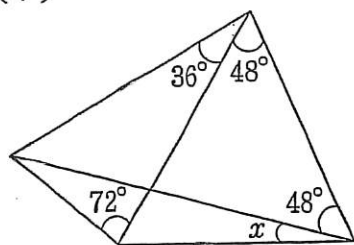
長方形の紙を折った.

(6)

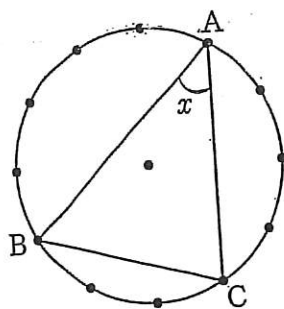


おうぎ形を折り，中心 O
を C に重ねた.

(7)

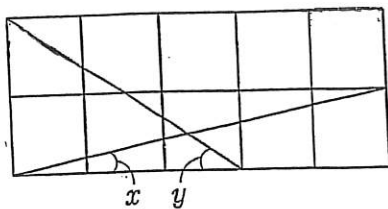


(8)



円周を12等分した.

(9)



すべてのマスは正方形.