

中学受験

(演習用)

実戦的解法による

分野別算数 1000

ファイル No. 397

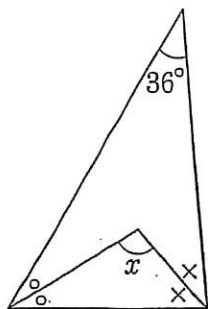
31-B 角度

中受ゼミ G

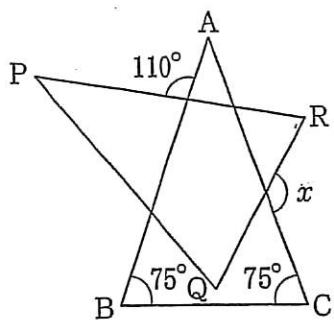
1

$x$  の角度を求めなさい。

(1)

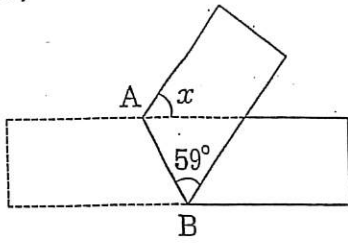


(2)



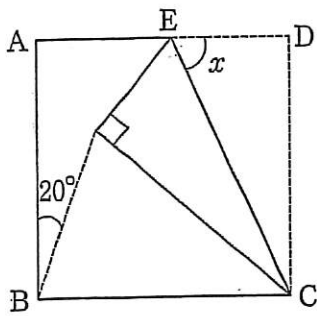
三角形 PQR は三角形 ABC をずらしたもの。

(3)



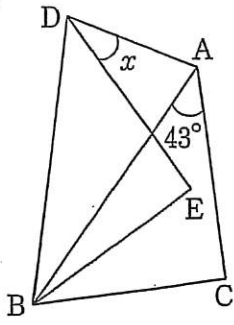
長方形の紙を AB で折った.

(4)



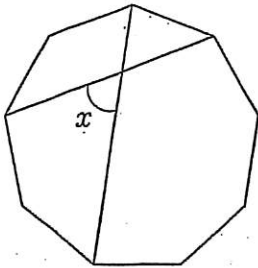
正方形 ABCD を折った.

(5)



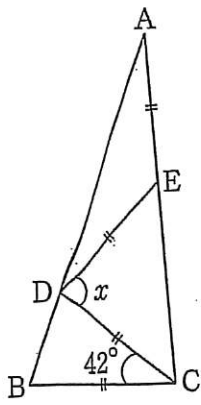
三角形  
ABCを  
Bを中心  
に $26^\circ$ 回  
転させると三角形  
DBE.

(6)

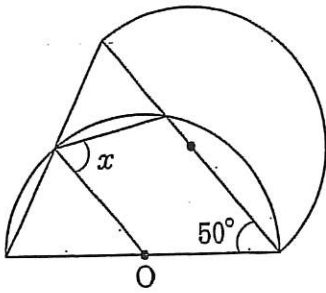


正九角形の対角線.

(7)

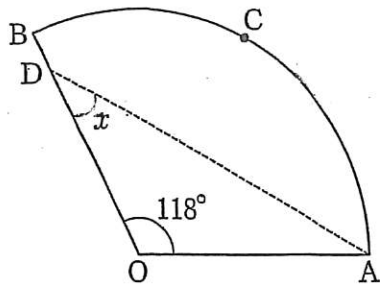


(8)



大きさが同じ半円,  
 $O$  は中心.

(9)



おうぎ形を  $AD$  で折ると  
中心  $O$  が点  $C$  に重なった.