

中学受験

(演習用)

実戦的解法による

分野別算数 1000

ファイル No. 422

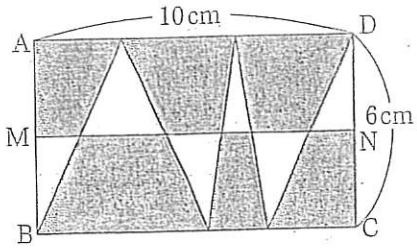
32-A 面積(1)

中受ゼミ G

1

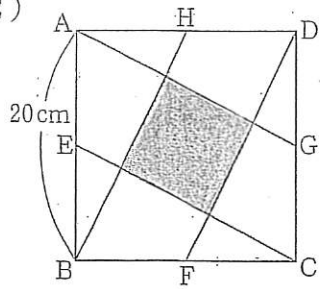
あみめ
網目部分の面積を求めなさい。円周率は3.14とします。

(1)



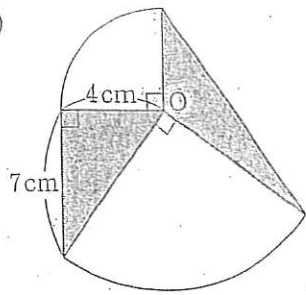
M, N は、長方形 ABCD の辺の真ん中の点。

(2)



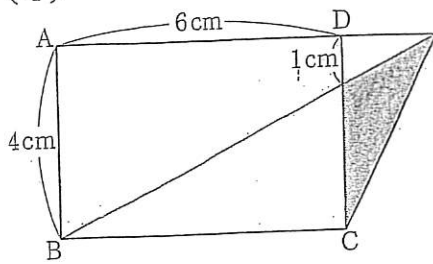
E, F, G, H は、正方形 ABCD の辺の真ん中の点。

(3)



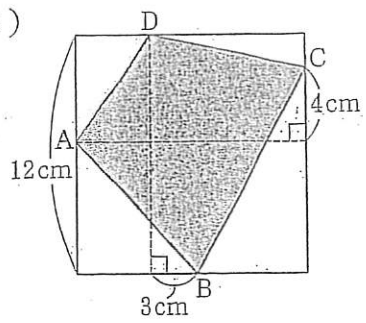
Oは、2つの四分円の中心。

(4)



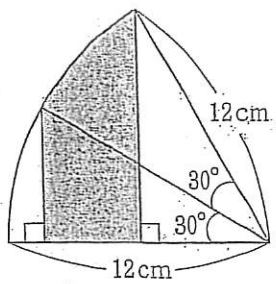
長方形 ABCD.

(5)



1 辺 12cm の正方形.

(6)



おうぎ形.