

中学受験

(演習用)

実戦的解法による

分野別算数 1000

ファイル No. 424

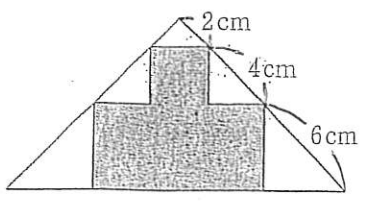
32-C 面積(1)

中受ゼミ G

1

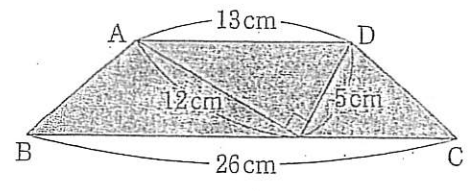
あみめ
網目部分の面積は何 cm^2 ですか。 円周率は 3.14 とします。

(1)



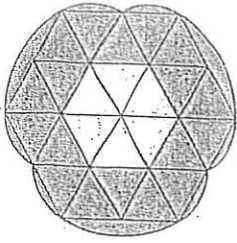
直角二等辺三角形から直角二等辺三角形を5つ切り取った。

(2)



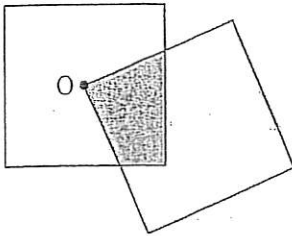
ADとBCは平行。

(3)



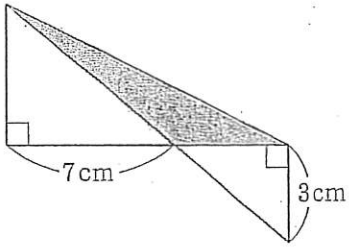
1辺 2.6cm の正三角形と半径が
2.6cm, 5.2cm の円周の一部.

(4)



対角線が
8cm の正
方形 2つ.
O は一方
の中心.

(5)



(6)

