

中学受験

(演習用)

実戦的解法による

分野別算数 1000

ファイル No. 432

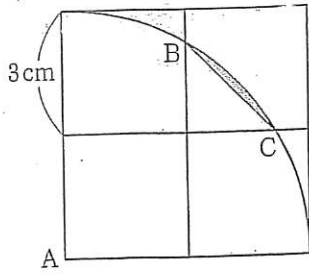
32-K 面積(1)

中受ゼミ G



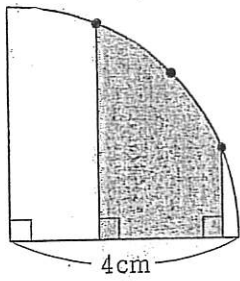
あみめ
網目部分の面積を求めなさい。円周率は3.14とします。

(1)



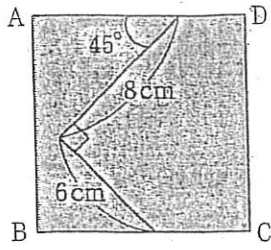
正方形4つ
と半径6cm
のおうぎ形

(2)



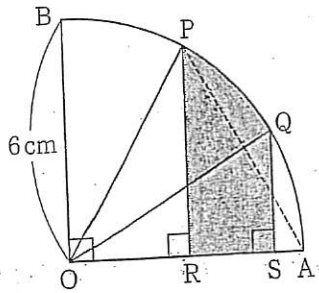
おうぎ形の弧を4等分

(3)



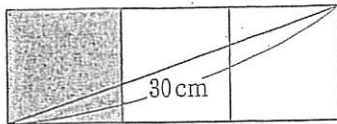
正方形 ABCD

(4)



三角形 OPR と三角形 QOS は
合同, 三角形 OPA は正三角形.

(5)



正方形を3つ
並べた長方形.